



Cálculo III-A – Módulo 7

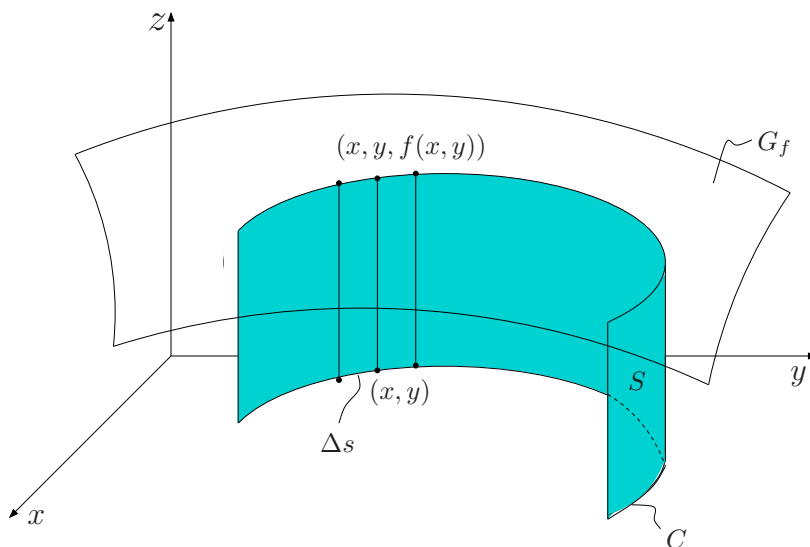
Aula 13 – Aplicações da Integral de Linha de Campo Escalar

Objetivo

- Apresentar uma interpretação geométrica.
- Apresentar algumas aplicações à Física.

Interpretação geométrica no plano

Seja $f(x, y) \geq 0$ e contínua. Então o gráfico de f , G_f , está acima do plano xy .



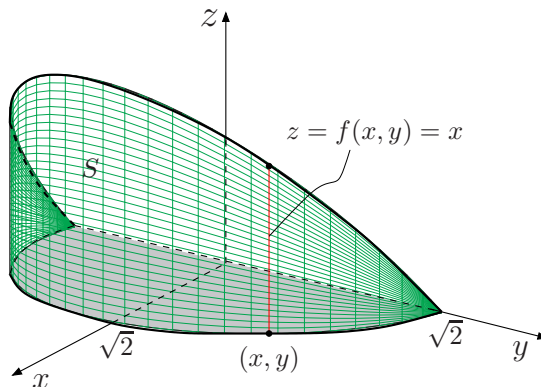
A partir da curva $C \subset$ plano xy , construa a superfície S de base C e “altura” $f(x, y)$ em $(x, y) \in C$. A integral $\int_C f(x, y) ds$ representa a área de um lado da superfície S .

Exemplo 1

A base de uma superfície é dada por $x^2 + y^2 = 2$, $x \geq 0$. Se a altura da superfície em (x, y) é $f(x, y) = x$, $x \geq 0$, obter a área de um lado da superfície.

Solução:

O esboço de S é:



A área de um lado de S é dada por $\int_C f(x, y) \, ds = \int_C x \, ds$, onde C é parametrizado por $\sigma(t) = (\sqrt{2} \cos t, \sqrt{2} \sin t)$, $-\pi/2 \leq t \leq \pi/2$ (pois $x \geq 0$).

Se $\sigma'(t) = (-\sqrt{2} \sin t, \sqrt{2} \cos t)$, então $\|\sigma'(t)\| = \sqrt{2 \sin^2 t + 2 \cos^2 t} = \sqrt{2}$ portanto,

$$ds = \|\sigma'(t)\| \, dt = \sqrt{2} \, dt.$$

Então

$$\int_C x \, ds = \int_{-\pi/2}^{\pi/2} (\sqrt{2} \cos t) \sqrt{2} \, dt = 2 \sin t \Big|_{-\pi/2}^{\pi/2} = 4 \, u.a.$$

Interpretação Física

Se $\delta(x, y)$ representa a densidade (massa por unidade de comprimento) de um arame $C \subset \mathbb{R}^2$, então $\int_C \delta(x, y) \, ds$ representa a massa total do arame:

$$M = \int_C \delta(x, y) \, ds.$$

OBS.:

1. O centro de massa (\bar{x}, \bar{y}) do arame é dado por

$$M\bar{x} = \int_C x\delta(x, y) ds$$

$$M\bar{y} = \int_C y\delta(x, y) ds$$

2. O momento de inércia de $C \subset \mathbb{R}^2$ em relação a um eixo E é dado por

$$I_E = \int_C r^2(x, y)\delta(x, y) ds$$

onde $r(x, y) =$ distância de (x, y) ao eixo E .

3. Seja uma curva $C \subset \mathbb{R}^3$, representando um arame de densidade $\delta = \delta(x, y, z)$ em $(x, y, z) \in C$. Então, observe as seguintes fórmulas:

(i) Comprimento do arame: $L = \int_C ds$

(ii) Massa do arame: $M = \int_C \delta(x, y, z) ds$

- (iii) Centro de massa do arame $(\bar{x}, \bar{y}, \bar{z})$, onde

$$M\bar{x} = \int_C x\delta(x, y, z) ds$$

$$M\bar{y} = \int_C y\delta(x, y, z) ds$$

$$M\bar{z} = \int_C z\delta(x, y, z) ds$$

- (iv) Momento de inércia do arame em relação a um eixo E :

$$I_E = \int_C r^2(x, y, z)\delta(x, y, z) ds$$

onde $r(x, y, z) =$ distância de (x, y, z) ao eixo E .



Exemplo 2

Um arame fino tem a forma de uma semicircunferência $x^2 + y^2 = 4, y \geq 0$. Se a densidade linear é

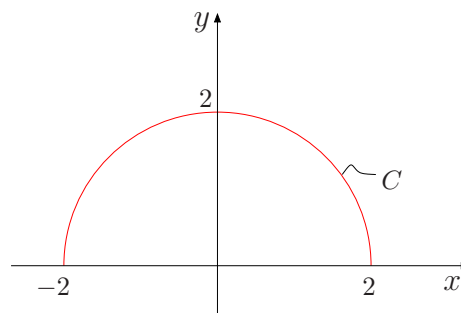
uma constante k , determine a massa e o centro de massa do arame.

Solução:

O esboço de C está representado ao lado. Temos

$$\bar{x} = \frac{\int_C xk \, ds}{\int_C k \, ds} = \frac{\int_C x \, ds}{\int_C ds}$$

$$\bar{y} = \frac{\int_C y \, ds}{\int_C ds}$$



onde $\int_C ds = L = \frac{1}{2} \cdot 2\pi r = 2\pi$, pois $r = 2$. Como $M = \int_C k ds$ então $M = k \int_C ds = 2k\pi$. Uma parametrização de C é dada por

$$\sigma(t) = (2 \cos t, 2 \sin t), \quad 0 \leq t \leq \pi.$$

Se $\sigma'(t) = (-2 \sin t, 2 \cos t)$, então $\|\sigma'(t)\| = \sqrt{4 \sin^2 t + 4 \cos^2 t} = 2$. Como $ds = \|\sigma'(t)\| dt$, então $ds = 2 dt$. Temos

$$\int_C x \, ds = \int_0^\pi (2 \cos t) 2 \, dt = 4 [\sin t]_0^\pi = 0$$

$$\int_C y \, ds = \int_0^\pi (2 \sin t) 2 \, dt = 4 [-\cos t]_0^\pi = 8$$

Logo,

$$\bar{x} = 0 \text{ e } \bar{y} = \frac{8}{2\pi} = \frac{4}{\pi}.$$

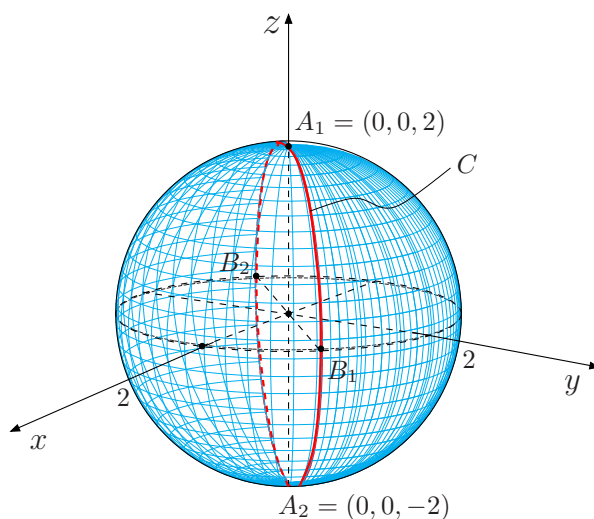
Portanto, $(\bar{x}, \bar{y}) = (0, 4/\pi)$.

Exemplo 3

Calcule o momento de inércia em relação ao eixo z de um arame C cuja forma é a interseção das superfícies $x^2 + y^2 + z^2 = 4$ e $y = x$, sabendo que sua densidade é uma constante.

Solução:

Como a interseção de uma esfera com um plano é uma circunferência, segue que C é uma circunferência contida no plano $y = x$. Para esboçá-la procuremos encontrar pontos de interseção das suas superfícies. Observe que o plano $x = y$ contém o eixo z . Logo, os pontos $A_1 = (0, 0, 2)$ e



$A_2 = (0, 0, -2)$ estão em C . Por outro lado, a reta $y = x$ do plano xy intercepta a esfera em dois pontos: B_1 e B_2 . Ligando os pontos A_1 , A_2 , B_1 e B_2 , encontramos a curva C .

Para parametrizar C , resolvemos o sistema

$$\begin{cases} x^2 + y^2 + z^2 = 4 \\ y = x \end{cases}.$$

Temos $2x^2 + z^2 = 4$ ou $x^2/2 + z^2/4 = 1$, que representa a projeção de C no plano xz . Portanto, se $(x, y, z) \in C$, então x e z satisfazem a elipse $x^2/2 + z^2/4$. Logo, $x = \sqrt{2} \cos t$ e $z = 2 \sin t$, com $0 \leq t \leq 2\pi$. Como $y = x$, então $y = \sqrt{2} \cos t$. Portanto,

$$\sigma(t) = (\sqrt{2} \cos t, \sqrt{2} \cos t, 2 \sin t), \quad 0 \leq t \leq 2\pi$$

é uma parametrização de C .

Se $\sigma'(t) = (-\sqrt{2} \sin t, -\sqrt{2} \sin t, 2 \cos t)$, então $\|\sigma'(t)\| = \sqrt{2 \sin^2 t + 2 \sin^2 t + 4 \cos^2 t} = 2$. Assim, $ds = \|\sigma'(t)\| dt = 2 dt$. O momento de inércia em relação ao eixo z é dado por

$$\begin{aligned} I_z &= \int_C (x^2 + y^2) \delta(x, y) ds = k \int_C (x^2 + y^2) ds = k \int_0^{2\pi} (2 \cos^2 t + 2 \cos^2 t) 2 dt \\ &= 8k \int_0^{2\pi} \cos^2 t dt \\ &= 8k \cdot \frac{1}{2} \left[t + \frac{\sin 2t}{2} \right]_0^{2\pi} \\ &= 8k\pi. \end{aligned}$$

Aula 14 – Campos Vetoriais

Objetivo

- Apresentar os campos vetoriais.
- Estudar alguns operadores diferenciais.

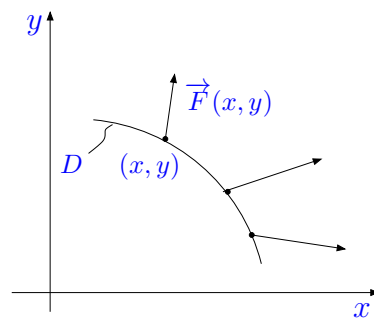
Definição de um campo vetorial:

Definição:

Sejam P e Q funções reais de x e y , definidas em $D \subset \mathbb{R}^2$. A função vetorial $\vec{F} : D \subset \mathbb{R}^2 \rightarrow \mathbb{R}^2$ definida por

$$\vec{F}(x, y) = (P(x, y), Q(x, y)) = P(x, y) \vec{i} + Q(x, y) \vec{j}$$

é chamada de campo vetorial definido em $D \subset \mathbb{R}^2$.



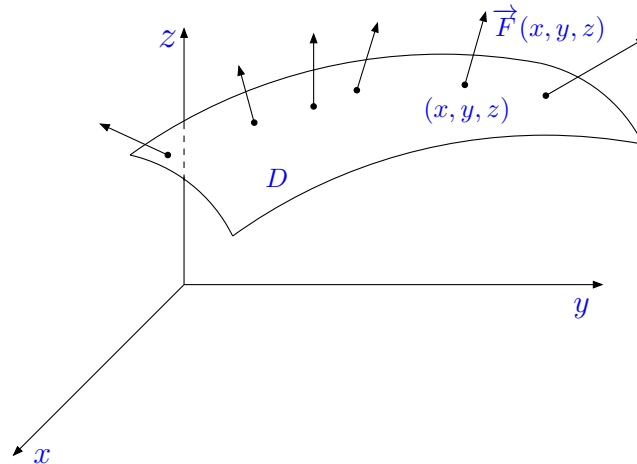
Outra notação: $\vec{F}(x, y) = (P, Q)$.

Definição:

Sejam P , Q e R funções reais de x , y e z , definidas em $D \subset \mathbb{R}^3$. Temos que a função vetorial $\vec{F} : D \subset \mathbb{R}^3 \rightarrow \mathbb{R}^3$ definida por

$$\vec{F}(x, y, z) = (P(x, y, z), Q(x, y, z), R(x, y, z)) = P(x, y, z)\vec{i} + Q(x, y, z)\vec{j} + R(x, y, z)\vec{k}$$

é chamada de campo vetorial definido em $D \subset \mathbb{R}^3$.

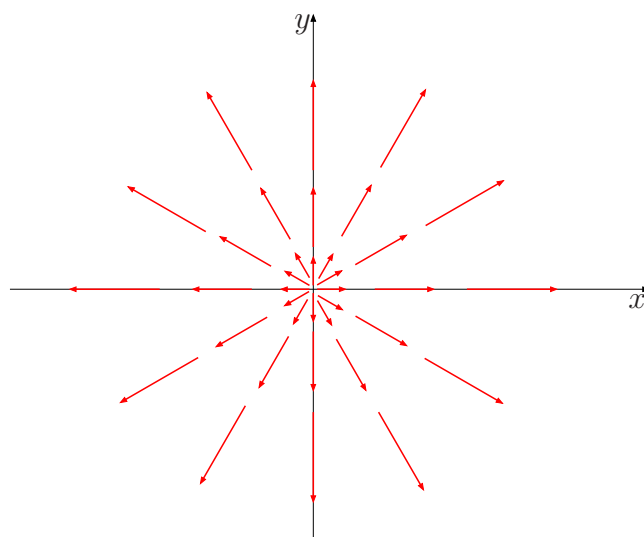


Os campos vetoriais são úteis para representar os campos de forças, campos de velocidades e campos elétricos.

Geometricamente, visualizamos um campo vetorial \vec{F} no plano esboçando vetores $\vec{F}(x, y)$ com origem em (x, y) .

Exemplo 1

O campo vetorial $\vec{F}(x, y) = (x, y) = x\vec{i} + y\vec{j}$, $(x, y) \in \mathbb{R}^2$ está representado por:

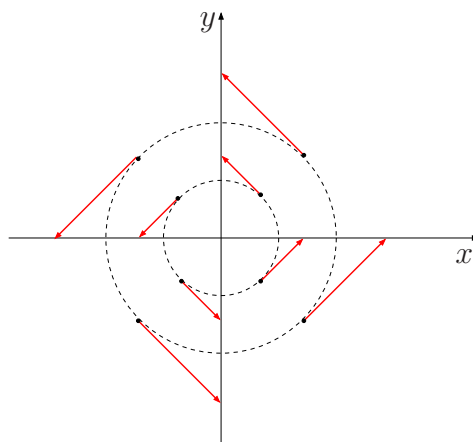


Exemplo 2

Faça a representação geométrica do campo vetorial $\vec{F}(x, y) = (-y, x) = -y\vec{i} + x\vec{j}$, $(x, y) \in \mathbb{R}^2$.

Solução:

Observemos que $\|\vec{F}(x, y)\| = \sqrt{y^2 + x^2} = \|(x, y)\|$, isto é, os vetores $\vec{F}(x, y)$ e (x, y) têm mesmo comprimento. Além disso, $\vec{F}(x, y) \cdot (x, y) = (-y, x) \cdot (x, y) = -yx + xy = 0$, portanto $\vec{F}(x, y) \perp (x, y)$. Então o esboço do campo é:



Definição:

Dizemos que o campo vetorial \vec{F} é contínuo, de classe C^k , $k \in \mathbb{N}^*$ ou C^∞ se as funções componentes P e Q (ou P, Q, R) são contínuas, de classe C^k ou C^∞ , respectivamente.

Operadores diferenciais

Se $\vec{F} = (P, Q, R)$ é campo vetorial diferenciável em um conjunto aberto D do \mathbb{R}^3 , então o divergente de \vec{F} é um *campo escalar* definido por

$$\operatorname{div} \vec{F} = \frac{\partial P}{\partial x} + \frac{\partial Q}{\partial y} + \frac{\partial R}{\partial z} \quad (1)$$

Se $\vec{F} = (P, Q)$ é de classe C^1 em um aberto D do \mathbb{R}^2 , então $\operatorname{div} \vec{F} = \frac{\partial P}{\partial x} + \frac{\partial Q}{\partial y}$.

O rotacional de \vec{F} é um campo vetorial definido por

$$\operatorname{rot} \vec{F} = \left(\frac{\partial R}{\partial y} - \frac{\partial Q}{\partial z} \right) \vec{i} + \left(\frac{\partial P}{\partial z} - \frac{\partial R}{\partial x} \right) \vec{j} + \left(\frac{\partial Q}{\partial x} - \frac{\partial P}{\partial y} \right) \vec{k} \quad (2)$$

Vamos expressar (1) e (2) usando a notação de operador. Então, consideremos o operador diferencial vetorial ∇ (“del”) dado por

$$\nabla = \frac{\partial}{\partial x} \vec{i} + \frac{\partial}{\partial y} \vec{j} + \frac{\partial}{\partial z} \vec{k} = \left(\frac{\partial}{\partial x}, \frac{\partial}{\partial y}, \frac{\partial}{\partial z} \right).$$

O operador ∇ sobre uma função escalar f (ou um campo escalar) produz o gradiente de f :

$$\nabla f = \left(\frac{\partial f}{\partial x}, \frac{\partial f}{\partial y}, \frac{\partial f}{\partial z} \right).$$

Consideremos o “produto vetorial” de ∇ pelo campo vetorial $\vec{F} = (P, Q, R)$:

$$\begin{aligned} \nabla \times \vec{F} &= \begin{vmatrix} \vec{i} & \vec{j} & \vec{k} \\ \partial/\partial x & \partial/\partial y & \partial/\partial z \\ P & Q & R \end{vmatrix} \\ &= \begin{vmatrix} \partial/\partial y & \partial/\partial z \\ Q & R \end{vmatrix} \vec{i} - \begin{vmatrix} \partial/\partial x & \partial/\partial z \\ P & R \end{vmatrix} \vec{j} + \begin{vmatrix} \partial/\partial x & \partial/\partial y \\ P & Q \end{vmatrix} \vec{k} \\ &= \left(\frac{\partial R}{\partial y} - \frac{\partial Q}{\partial z} \right) \vec{i} - \left(\frac{\partial R}{\partial x} - \frac{\partial P}{\partial z} \right) \vec{j} + \left(\frac{\partial Q}{\partial x} - \frac{\partial P}{\partial y} \right) \vec{k} \\ &= \left(\frac{\partial R}{\partial y} - \frac{\partial Q}{\partial z} \right) \vec{i} + \left(\frac{\partial P}{\partial z} - \frac{\partial R}{\partial x} \right) \vec{j} + \left(\frac{\partial Q}{\partial x} - \frac{\partial P}{\partial y} \right) \vec{k} \\ &= \operatorname{rot} \vec{F}. \end{aligned}$$

Logo,

$$\operatorname{rot} \vec{F} = \nabla \times \vec{F}.$$

Consideremos o “produto interno” de ∇ pelo campo \vec{F} :

$$\nabla \cdot \vec{F} = \left(\frac{\partial}{\partial x}, \frac{\partial}{\partial y}, \frac{\partial}{\partial z} \right) \cdot (P, Q, R) = \frac{\partial P}{\partial x} + \frac{\partial Q}{\partial y} + \frac{\partial R}{\partial z} = \operatorname{div} \vec{F}.$$

Assim,

$$\operatorname{div} \vec{F} = \nabla \cdot \vec{F}.$$

Exemplo 1

Calcule o divergente e o rotacional do campo vetorial $\vec{F}(x, y, z) = xy \vec{i} + yz \vec{j} + zx \vec{k}$.

Solução:

Temos

$$\operatorname{div} \vec{F} = \nabla \cdot \vec{F} = \frac{\partial}{\partial x}(xy) + \frac{\partial}{\partial y}(yz) + \frac{\partial}{\partial z}(zx) = y + z + x.$$

e

$$\operatorname{rot} \vec{F} = \nabla \times \vec{F} = \begin{vmatrix} \vec{i} & \vec{j} & \vec{k} \\ \partial/\partial x & \partial/\partial y & \partial/\partial z \\ xy & yz & zx \end{vmatrix} = (0-y) \vec{i} + (0-z) \vec{j} + (0-x) \vec{k} = -y \vec{i} - z \vec{j} - x \vec{k}.$$

A seguir, apresentaremos algumas propriedades para o rotacional e o divergente.

Se f e \vec{F} são de classe C^2 , então

- (i) $\operatorname{rot}(\operatorname{grad} f) = \vec{0}$ ou $\nabla \times (\nabla f) = \vec{0}$
- (ii) $\operatorname{div}(\operatorname{rot} \vec{F}) = 0$ ou $\nabla \cdot (\nabla \times \vec{F}) = 0$
- (iii) $\operatorname{div}(\operatorname{grad} f) = \operatorname{lap} f$ ou $\nabla \cdot (\nabla f) = \nabla^2 f$ ou Δf onde $\operatorname{lap} f = \nabla^2 f = \Delta f = \frac{\partial^2 f}{\partial x^2} + \frac{\partial^2 f}{\partial y^2} + \frac{\partial^2 f}{\partial z^2}$ é dito *laplaciano de f* .
- (iv) $\nabla \cdot (f \vec{F}) = f \nabla \cdot \vec{F} + \nabla f \cdot \vec{F}$.

As demonstrações de (i) e (ii) seguem das definições e do Teorema de Schwartz. A demonstração de (iii) segue das definições. Demonstraremos a propriedade (iv). Escrevendo $\vec{F} = (P, Q, R)$, temos $f \vec{F} = (fP, fQ, fR)$. Então,

$$\begin{aligned} \nabla \cdot (f \vec{F}) &= \frac{\partial}{\partial x}(fP) + \frac{\partial}{\partial y}(fQ) + \frac{\partial}{\partial z}(fR) = f \frac{\partial P}{\partial x} + \frac{\partial f}{\partial x} \cdot P + f \frac{\partial Q}{\partial y} + \frac{\partial f}{\partial y} \cdot Q + f \frac{\partial R}{\partial z} + \frac{\partial f}{\partial z} \cdot R \\ &= f \left(\frac{\partial P}{\partial x} + \frac{\partial Q}{\partial y} + \frac{\partial R}{\partial z} \right) + \left(\frac{\partial f}{\partial x}, \frac{\partial f}{\partial y}, \frac{\partial f}{\partial z} \right) \cdot (P, Q, R) \\ &= f \nabla \cdot \vec{F} + \nabla f \cdot \vec{F} \end{aligned}$$

como queríamos demonstrar.



OBS.: Se $\vec{F}(x, y) = P(x, y)\vec{i} + Q(x, y)\vec{j}$, então:

$$\text{rot } \vec{F} = \left(\frac{\partial Q}{\partial x} - \frac{\partial P}{\partial y} \right) \vec{k}.$$

Exercício 1: Use a integral de linha para encontrar a área da superfície lateral sobre a curva C e abaixo da superfície $z = f(x, y)$, onde

a) $C : x^2 + y^2 = 1$, com $y \geq 0$ de $(1, 0)$ a $(0, 1)$ e $f(x, y) = xy$

b) $C : y = 1 - x^2$ de $(1, 0)$ a $(0, 1)$ e $f(x, y) = x$

Exercício 2: Determine a massa de um fio com a forma da curva $y = \ln x$, com $\sqrt{3} \leq x \leq \sqrt{8}$, se a densidade em cada ponto é igual ao quadrado da abscissa do ponto.

Exercício 3: Determine a massa de uma quarta parte da circunferência $x^2 + y^2 = a^2$, situada no primeiro quadrante se a densidade em cada ponto é igual a ordenada desse ponto.

Exercício 4: Calcule o centro de massa do fio C parametrizado por $\vec{r}(t) = (t, t, t)$, com $0 \leq t \leq 1$, com densidade linear $\delta(x, y, z) = xyz$.

Exercício 5: Seja C um fio delgado com a forma da interseção da superfície $x^2 + y^2 + z^2 = 5$, com $z \geq 0$ com o plano $x + y = 1$. Calcule o momento de inércia de C em relação ao eixo z , se a densidade em cada ponto é proporcional à sua distância ao plano xy .

Exercício 6: Calcule a massa de um arame fino com o formato da hélice $x = 3 \cos t$, $y = 3 \sin t$ e $z = 4t$, com $0 \leq t \leq \pi/2$, se a densidade for $\delta(x, y, z) = \frac{kx}{1 + y^2}$, com $k > 0$.

Exercício 7: Calcule $\text{div } \vec{F}$ e $\text{rot } \vec{F}$ sendo:

a) $\vec{F}(x, y, z) = (2z - 3y, 3x - z, y - 2x)$

b) $\vec{F}(x, y, z) = (z + \sin y)\vec{i} - (z - x \cos y)\vec{j}$

Exercício 8: Se $\vec{r} = (x, y, z)$ e \vec{a} é um vetor constante, demonstre que $\text{rot}(\vec{a} \times \vec{r}) = 2\vec{a}$ e $\text{div}(\vec{a} \times \vec{r}) = 0$.