

Resolução da Lista 1 de Cálculo Diferencial e Integral Aplicado I

Por: Camila Fontoura Paulo

Orientadora: Cruz Sonia Quiroga de Caldas

Questão 19

Resolva para x e represente a solução na reta numérica

$$\left| \frac{1}{x-2} \right| \leq \left| \frac{5}{2x-1} \right|$$

Solução

A expressão dada é equivalente a

$$\frac{1}{|x-2|} \leq \frac{5}{|2x-1|}$$

Considerando $x \neq 2$ e $x \neq \frac{1}{2}$ e multiplicando ambos os membros pelo produto $|x-2| \cdot |2x-1| > 0$, a desigualdade não muda assim obtemos:

$$\frac{1 \cdot |x-2| \cdot |2x-1|}{|x-2|} \leq \frac{5 \cdot |x-2| \cdot |2x-1|}{|2x-1|}$$

$$|2x-1| \leq 5|x-2|$$

Assim utilizando uma das propriedades de inequações modulares temos:

$$-5|x-2| \leq 2x-1 \leq 5|x-2|$$

Logo,

$$\overbrace{-5|x-2| \leq 2x-1}^1 \wedge \overbrace{5|x-2| \geq 2x-1}^2$$

Solução de 1) $-5|x-2| \leq 2x-1$

Podemos multiplicar a inequação por (-1) alterando seu sinal de desigualdade.

$$5|x-2| \geq -(2x-1)$$

Desta inequação teremos duas inequações.

$$\overbrace{5(x-2) \geq -(2x-1)}^{1.1} \text{ ou } \overbrace{5(x-2) \leq 2x-1}^{1.2}$$

$$1.1) \quad -2x+1 \leq 5x-10, \text{ para } x > 2$$

$$-7x \leq -11$$

$$7x \geq 11$$

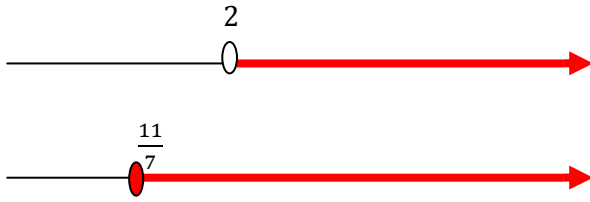
$$x \geq \frac{11}{7}$$

Resolução da Lista 1 de Cálculo Diferencial e Integral Aplicado I

Por: Camila Fontoura Paulo

Orientadora: Cruz Sonia Quiroga de Caldas

Pela interseção dos intervalos:



Resulta em



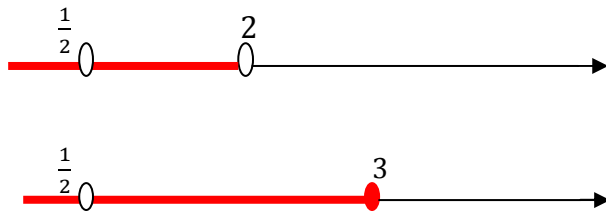
Logo, temos o intervalo $(2, +\infty)$.

1.2) $-2x+1 \leq -5x+10$, para $x < 2$


$$3x \leq 9$$

$$x \leq 3$$

Pela interseção dos intervalos:



Resulta em



Logo, temos o intervalo $(-\infty, \frac{1}{2}) \cup (\frac{1}{2}, 2)$.

Para encontramos o intervalos correspondente a resposta da primeira parte da inequação inicial faremos a união dos intervalos da inequação 1.1 e 1.2, ou seja, $(-\infty, \frac{1}{2}) \cup (\frac{1}{2}, 2) \cup (2, +\infty)$ (intervalo 3).

Solução de 2) $5|x-2| \geq 2x-1$

Desta inequação teremos duas inequações:

Resolução da Lista 1 de Cálculo Diferencial e Integral Aplicado I

Por: Camila Fontoura Paulo

Orientadora: Cruz Sonia Quiroga de Caldas

$$\overbrace{5(x-2) \geq 2x-1}^{2.1} \text{ ou } \overbrace{5(x-2) \geq 2x-1}^{2.2}$$

$$2.1) 2x-1 \leq 5x-10, \text{ se } x > 2$$

$$-3x \leq -9$$

$$3x \geq 9$$

$$x \geq 3$$

Pela interseção dos intervalos:



Resulta em




Logo, temos o intervalo $[3, +\infty)$.

$$2.2) 2x-1 \leq -5x+10, \text{ para } x < 2$$


$$7x \leq 11$$

$$x \leq \frac{11}{7}$$

Pela interseção dos intervalos:



Resulta em



Resolução da Lista 1 de Cálculo Diferencial e Integral Aplicado I

Por: Camila Fontoura Paulo

Orientadora: Cruz Sonia Quiroga de Caldas

Logo, temos o intervalo $(-\infty, \frac{1}{2}) \cup (\frac{1}{2}, \frac{11}{7}]$.

Para encontramos o intervalos correspondente a resposta da segunda parte da inequação inicial faremos a união dos intervalos da inequações 2.1 e 2.2, ou seja, $(-\infty, \frac{1}{2}) \cup (\frac{1}{2}, \frac{11}{7}] \cup [3, +\infty)$ (intervalo 4).

Para a resposta final temos a interseção dos intervalos 3 e 4.



Resulta em



Logo, a resposta final da inequação será: $(-\infty, \frac{1}{2}) \cup (\frac{1}{2}, \frac{11}{7}] \cup [3, +\infty)$.

Questão 44

Esboce o gráfico da função, especificando o domínio, a imagem e, quando possível, a paridade.

$$y = \frac{|x^3 - 5x^2 + 2x + 8|}{x-2}$$

Solução

$$\text{Temos } y = \frac{|x^3 - 5x^2 + 2x + 8|}{x-2} = \begin{cases} \frac{x^3 - 5x^2 + 2x + 8}{x-2}, & \text{se } x^3 - 5x^2 + 2x + 8 \geq 0 \\ \frac{-(x^3 - 5x^2 + 2x + 8)}{x-2}, & \text{se } x^3 - 5x^2 + 2x + 8 < 0 \end{cases}$$

Sabe-se que o domínio da função é $\mathbb{R} - \{2\}$.

Vamos fatorar a equação

$$x^3 - 5x^2 + 2x + 8 = 0$$

Por tentativas temos que $x = -1$ é raiz da equação. Logo, pelo método de Briot-Ruffini.

Resolução da Lista 1 de Cálculo Diferencial e Integral Aplicado I

Por: Camila Fontoura Paulo

Orientadora: Cruz Sonia Quiroga de Caldas

$$\begin{array}{r|rrrr|r} & 1 & -5 & 2 & 8 & \\ -1 & 1 & -6 & 8 & 0 & \end{array}$$

Logo, $x^3 - 5x^2 + 2x + 8 = (x+1)(x^2 - 6x + 8) = (x+1)(x-2)(x-4) = 0$, já que na equação de segundo grau por soma e produto temos $-6 = -(2+4)$ e $8 = 2 \cdot 4$.

Logo,

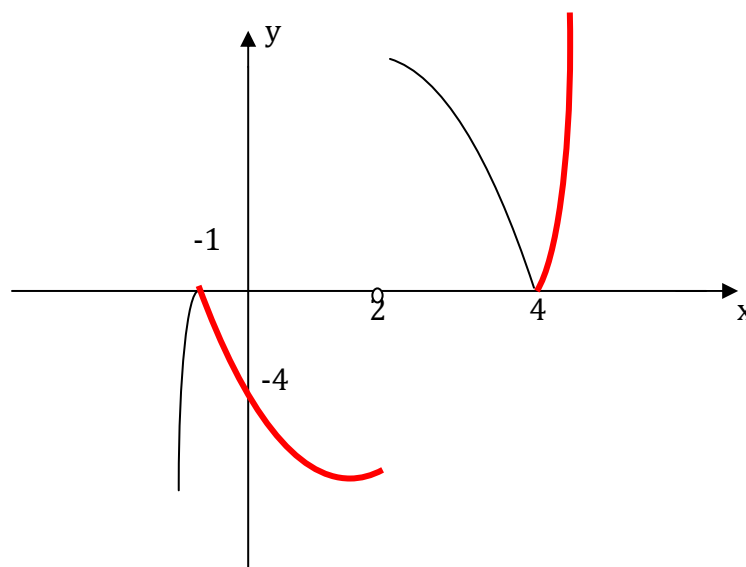
$$y = \frac{|(x+1)(x-2)(x-4)|}{x-2} = \begin{cases} (x+1)(x-4), & \text{se } (x+1)(x-2)(x-4) \geq 0 \\ -(x-1)(x-4), & \text{se } (x+1)(x-2)(x-4) < 0 \end{cases}$$

Observe que

	$x < -1$	$x = -1$	$-1 < x < 2$	$x = 2$	$2 < x < 4$	$x = 4$	$x > 4$
$x+1$	-	0	+		+	5	+
$x-2$	-	-3	-		+	2	+
$x-4$	-	-5	-		-	0	+
$(x+1)(x-2)(x-4)$	-	0	+	\neq	-	0	+

$$y = \begin{cases} x^2 - 3x - 4, & \text{se } x \in [-1, 2) \cup [4, +\infty) \\ -x^2 + 3x + 4, & \text{se } x \in (-\infty, -1) \cup (2, 4) \end{cases}$$

Desta forma, podemos esboçar o gráfico:



A imagem da função dada é \mathbb{R} , pela análise gráfica.