



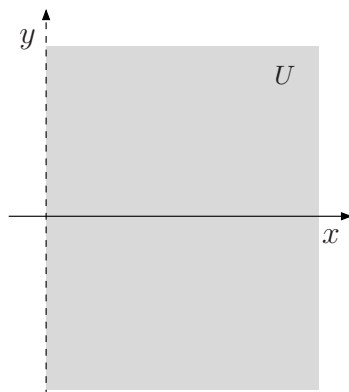
Cálculo III-A – Lista 14

Exercício 1: Mostre que

$$I = \int_C (1 + 2xy + \ln x) dx + x^2 dy$$

é independente do caminho e calcule o valor de I onde C é dada por $\gamma(t) = (1 + \cos t, \sin t)$, com $-\pi/2 \leq t \leq \pi/2$.

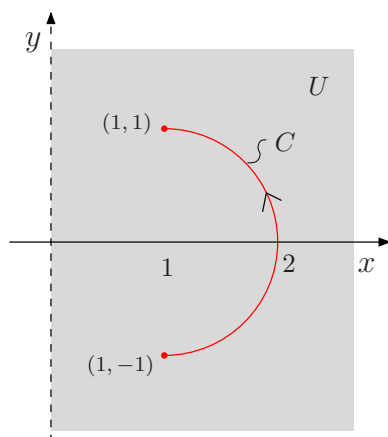
Solução: Seja $\vec{F}(x, y) = (P, Q) = (1 + 2xy + \ln x, x^2)$ que é de classe C^1 no conjunto aberto $U = \{(x, y) \in \mathbb{R}^2; x > 0\}$.



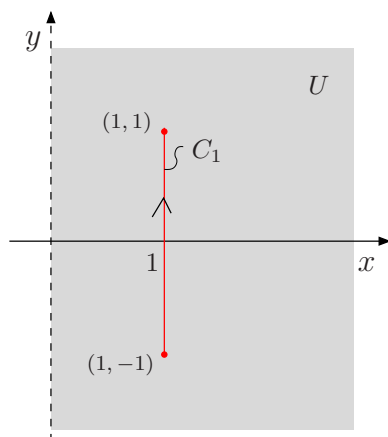
Como U é um conjunto simplesmente conexo e $\frac{\partial Q}{\partial x} = 2x = \frac{\partial P}{\partial y}$, então, pelo teorema das equivalências, segue que a integral de linha I é independente do caminho.

Esboço de C

Temos que $\gamma(-\pi/2) = (1, -1)$ e $\gamma(\pi/2) = (1, 1)$. As equações de C são $x = 1 + \cos t$ e $y = \sin t$, com $-\pi/2 \leq t \leq \pi/2$. Logo, $(x - 1)^2 = \cos^2 t$ e $y^2 = \sin^2 t$ portanto $(x - 1)^2 + y^2 = 1$. Então C é o arco da circunferência $(x - 1)^2 + y^2 = 1$, percorrido no sentido anti-horário que vai de $(1, -1)$ a $(1, 1)$.



Como a integral de linha não depende do caminho, vamos substituir a curva C pelo segmento de reta C_1 que liga $(1, -1)$ a $(1, 1)$.



Temos $C_1 : \begin{cases} x = 1 \\ y = t \end{cases}$, com $-1 \leq t \leq 1$, portanto $dx = 0$ e $dy = dt$. Logo,

$$\begin{aligned} I &= \int_{C_1} (1 + 2xy + \ln x) dx + x^2 dy = \\ &= \int_{-1}^1 0 + 1^1 dt = \int_{-1}^1 dt = [t]_{-1}^1 = 2. \end{aligned}$$

Exercício 2: Calcule

$$I = \int_C (ze^{xz} + ye^{xy} + 6x) dx + (xe^{xy} + ze^{yz}) dy + (xe^{xz} + ye^{yz} - \sin z) dz$$

onde C é a curva dada por $\gamma(t) = t^2 \vec{i} + (t-1)(t-3) \vec{j} + \pi t^3 \vec{k}$, com $0 \leq t \leq 1$.

Solução: Seja

$$\vec{F}(x, y, z) = (ze^{xz} + ye^{xy} + 6x, xe^{xy} + ze^{yz}, xe^{xz} + ye^{yz} - \sin z)$$

definido em \mathbb{R}^3 . Temos

$$\begin{aligned} \operatorname{rot} \vec{F} &= \begin{vmatrix} \vec{i} & \vec{j} & \vec{k} \\ \frac{\partial}{\partial x} & \frac{\partial}{\partial y} & \frac{\partial}{\partial z} \\ ze^{xz} + ye^{xy} + 6x & xe^{xy} + ze^{yz} & xe^{xz} + ye^{yz} - \operatorname{sen} z \end{vmatrix} = \\ &= (e^{yz} + yze^{yz} - e^{yz} - yze^{yz}, e^{xz} + xze^{xz} - e^{xz} - xze^{xz}, e^{xy} - xye^{xy} - \\ &- e^{xy} - xye^{xy}) = (0, 0, 0) = \vec{0}. \end{aligned}$$

Como $\operatorname{dom} \vec{F}$ é um conjunto simplesmente conexo e $\operatorname{rot} \vec{F} = \vec{0}$, pelo teorema das equivalências, temos que \vec{F} é conservativo. Logo, existe $\varphi(x, y, z)$, tal que $\nabla\varphi = \vec{F}$ em \mathbb{R}^3 .

Para encontrar uma $\varphi(x, y, z)$, devemos resolver

$$\frac{\partial\varphi}{\partial x} = ze^{xz} + ye^{xy} + 6x \quad (1)$$

$$\frac{\partial\varphi}{\partial y} = xe^{xy} + ze^{yz} \quad (2)$$

$$\frac{\partial\varphi}{\partial z} = xe^{xz} + ye^{yz} - \operatorname{sen} z \quad (3)$$

Integrando (1), (2) e (3) em relação a x , y e z respectivamente,

$$\varphi(x, y, z) = e^{xz} + e^{xy} + 3x^2 + f(y, z) \quad (4)$$

$$\varphi(x, y, z) = e^{xy} + e^{yz} + g(x, z) \quad (5)$$

$$\varphi(x, y, z) = e^{xz} + e^{yz} + \cos z + h(x, y) \quad (6)$$

Comparando (4), (5) e (6), temos que $f(y, z) = e^{yz} + \cos z$, $g(x, z) = e^{xz} + 3x^2 + \cos z$ e $h(x, y) = e^{xy} + 3x^2$. Logo, $\varphi(x, y, z) = e^{xz} + e^{xy} + e^{yz} + 3x^2 + \cos z$. Então $I = \varphi(\gamma(1)) - \varphi(\gamma(0))$ onde $\gamma(1) = (1, 0, \pi)$ e $\gamma(0) = (0, 3, 0)$. Logo,

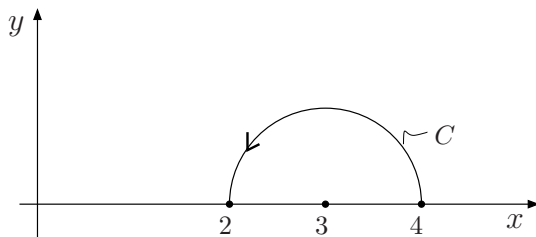
$$\begin{aligned} I &= \varphi(1, 0, \pi) - \varphi(0, 3, 0) = \\ &= (e^\pi + e^0 + e^0 + 3 + \cos \pi) - (e^0 + e^0 + e^0 + 3 \cdot 0^2 + \cos 0) = \\ &= e^\pi + 4 - 4 = e^\pi. \end{aligned}$$

Exercício 3: Calcule

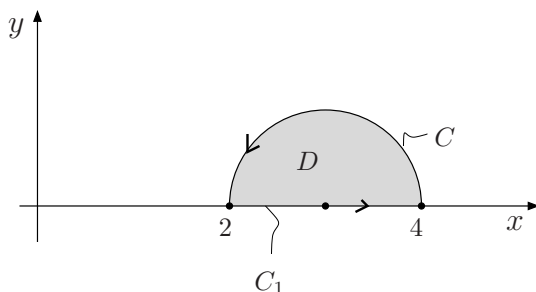
$$\int_C (e^x \sin y - 2y - \pi) dx + (e^x \cos y + e^y) dy$$

ao longo de $C : (x - 3)^2 + y^2 = 1, y \geq 0$, orientada de $(4, 0)$ para $(2, 0)$.

Solução: O esboço de C está representado na figura que se segue.



Ora, calcular a integral usando a definição é uma tarefa muito complicada. Como $\text{rot } \vec{F} = \left(\frac{\partial Q}{\partial x} - \frac{\partial P}{\partial y} \right) \vec{k} = (e^x \cos y - e^x \cos y + 2) \vec{k} = 2\vec{k} \neq \vec{0}$, então \vec{F} não é conservativo. Assim, só nos resta usar o teorema de Green. Para isso, fechemos a curva C através do segmento C_1 que liga $(2, 0)$ a $(4, 0)$.



Seja D a região limitada por $\bar{C} = C \cup C_1$. Como estamos nas condições do teorema de Green, temos

$$\begin{aligned} \int_C \vec{F} \cdot d\vec{r} + \int_{C_1} \vec{F} \cdot d\vec{r} &= \iint_D \left(\frac{\partial Q}{\partial x} - \frac{\partial P}{\partial y} \right) dx dy = \\ &= 2 \iint_D dx dy = 2 A(D) = 2 \cdot \frac{1}{2} \cdot \pi \cdot 1^2 = \pi. \end{aligned}$$

Cálculo de $\int_{C_1} \vec{F} \cdot d\vec{r}$

Temos $C_1 : y = 0$, com $2 \leq x \leq 4$ portanto $dy = 0$. Então,

$$\begin{aligned} \int_{C_1} \vec{F} \cdot d\vec{r} &= \int_{C_1} P(x, 0) dx + Q(x, 0) \cdot 0 = \\ &= \int_2^4 (e^x \sin 0 - 2 \cdot 0 - \pi) dx = -2\pi. \end{aligned}$$

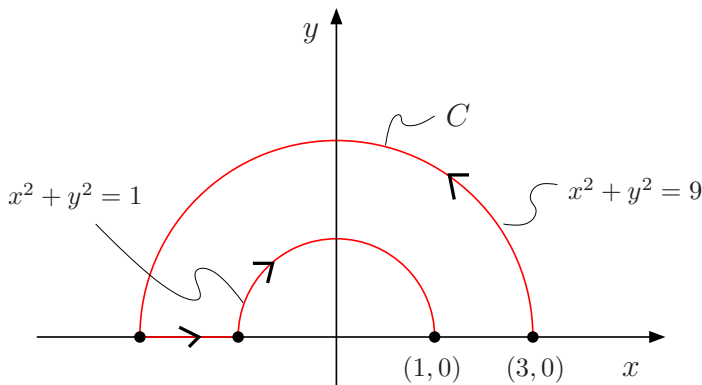
Logo,

$$\int_C \vec{F} \cdot d\vec{r} = \pi + 2\pi = 3\pi.$$

Exercício 4: Calcule

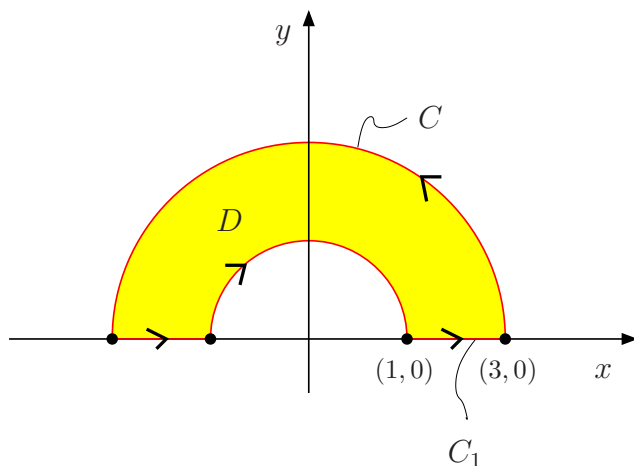
$$\int_C (x^2 - y^2) dx + (\arctg y + x^2) dy$$

onde C é a curva aberta que vai de $(3, 0)$ a $(1, 0)$, ilustrada na figura que se segue.



Solução: Seja $\vec{F}(x, y) = (P, Q) = (x^2 - y^2, \arctg y + x^2)$, com $(x, y) \in \mathbb{R}^2$. Então temos $\frac{\partial Q}{\partial x} - \frac{\partial P}{\partial y} = 2x + 2y \neq 0$. Logo, \vec{F} não é conservativo. Para usar o teorema de Green, devemos fechar a curva C , por meio do segmento de reta C_1 que liga $(1, 0)$ a $(3, 0)$.

Seja D a região limitada por $\bar{C} = C \cup C_1$.



Como estamos nas condições do teorema de Green, temos

$$\begin{aligned} \int_C \vec{F} \cdot d\vec{r} + \int_{C_1} \vec{F} \cdot d\vec{r} &= \iint_D \left(\frac{\partial Q}{\partial x} - \frac{\partial P}{\partial y} \right) dx dy = \\ &= \iint_D 2x dx dy + \iint_D 2y dx dy. \end{aligned}$$

Como $f(x, y) = 2x$ é uma função ímpar na variável x e D tem simetria em relação ao eixo y , então $\iint_D 2x \, dx dy = 0$. Utilizemos as coordenadas polares para calcular a outra integral. Temos

$$\begin{cases} x = r \cos \theta \\ y = r \sin \theta \\ dx dy = r dr d\theta \end{cases}$$

e $D_{r\theta} : \begin{cases} 0 \leq \theta \leq \pi \\ 1 \leq r \leq 3 \end{cases}$. Portanto,

$$\begin{aligned} \iint_D 2y \, dx dy &= 2 \int_0^\pi \int_1^3 (r \sin \theta) r \, dr d\theta = 2 \int_0^\pi \int_1^3 r^2 \sin \theta \, dr d\theta = \\ &= 2 \left[\frac{r^3}{3} \right]_1^3 \int_0^\pi \sin \theta \, d\theta = \frac{2}{3} (27 - 1) \left[-\cos \theta \right]_0^\pi = \frac{104}{3}. \end{aligned}$$

Cálculo de $\int_{C_1} \vec{F} \cdot d\vec{r}$

Temos $C_1 : y = 0$, com $1 \leq x \leq 3$ portanto $dy = 0$. Então,

$$\int_{C_1} \vec{F} \cdot d\vec{r} = \int_{C_1} P(x, 0) \, dx = \int_1^3 x^2 \, dx = \left[\frac{x^3}{3} \right]_1^3 = \frac{26}{3}.$$

Logo,

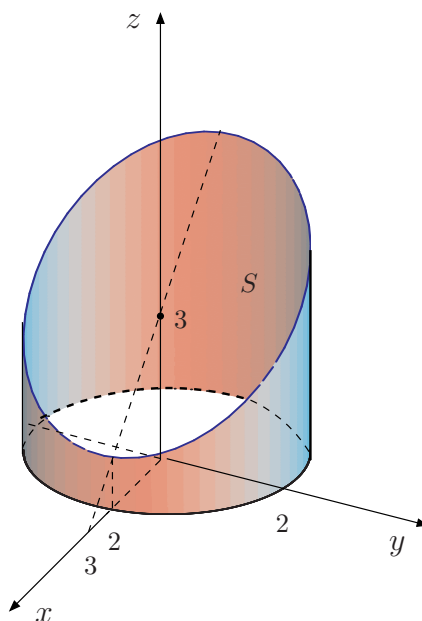
$$\int_C \vec{F} \cdot d\vec{r} = \frac{104}{3} - \frac{26}{3} = \frac{78}{3} = 26.$$

Exercício 5: Uma lâmina tem a forma da parte lateral do cilindro $x^2 + y^2 = 4$, entre os planos $z = 0$ e $z = 3 - x$. Determine a massa dessa lâmina se a densidade no ponto (x, y, z) é dada por $f(x, y, z) = x^2$.

Solução: Temos que

$$M = \iint_S f(x, y, z) \, dS = \iint_S x^2 \, dS$$

onde S está ilustrada na figura que se segue.



Uma parametrização para S é dada por $\varphi(t, z) = (2 \cos t, 2 \sin t, z)$ onde $(t, z) \in D : \begin{cases} 0 \leq t \leq 2\pi \\ 0 \leq z \leq 3 - 2 \cos t \end{cases}$.
 Temos $\frac{\partial \varphi}{\partial t} = (-2 \sin t, 2 \cos t, 0)$ e $\frac{\partial \varphi}{\partial z} = (0, 0, 1)$, portanto

$$\frac{\partial \varphi}{\partial t} \times \frac{\partial \varphi}{\partial z} = \begin{vmatrix} \vec{i} & \vec{j} & \vec{k} \\ -2 \sin t & 2 \cos t & 0 \\ 0 & 0 & 1 \end{vmatrix} = (2 \cos t, 2 \sin t, 0).$$

Como $dS = \left\| \frac{\partial \varphi}{\partial t} \times \frac{\partial \varphi}{\partial z} \right\| dt dz$ então $dS = 2 dt dz$. Logo,

$$\begin{aligned} M &= \iint_D (2 \cos t)^2 \cdot 2 dt dz = 8 \int_0^{2\pi} \int_0^{3-2 \cos t} \cos^2 t dz dt = \\ &= 8 \int_0^{2\pi} (3 \cos^2 t - 2 \cos^3 t) dt = 24 \int_0^{2\pi} \cos^2 t dt - 16 \int_0^{2\pi} \cos^3 t dt. \end{aligned}$$

Temos

$$\int_0^{2\pi} \cos^2 t dt = \frac{1}{2} \left[t + \frac{\sin 2t}{2} \right]_0^{2\pi} = \pi$$

e

$$\begin{aligned} \int_0^{2\pi} \cos^3 t dt &= \int_0^{2\pi} \cos^2 t \cdot \cos t dt = \int_0^{2\pi} (1 - \sin^2 t) d(\sin t) = \\ &= \left[\sin t - \frac{\sin^3 t}{3} \right]_0^{2\pi} = 0. \end{aligned}$$

Logo,

$$M = 24\pi \text{ u.m.}$$

Exercício 6: Seja C a curva $z = 2x^2$, com $0 \leq x \leq 2$, contida no plano xz . Seja S a superfície obtida girando C em torno do eixo z .

- a) Parametrize S .
b) Calcule a área de S .

Solução:

a) Uma parametrização da curva C é dada por $x(t) = t$, $y(t) = 0$ e $z(t) = 2t^2$, com $0 \leq t \leq 2$. Logo, uma parametrização de S é dada por

$$\varphi(t, \theta) = (x(t) \cos \theta, x(t) \sin \theta, z(t)) = (t \cos \theta, t \sin \theta, 2t^2)$$

$$\text{com } (t, \theta) \in D : \begin{cases} 0 \leq t \leq 2 \\ 0 \leq \theta \leq 2\pi \end{cases} .$$

b) As derivadas parciais de φ são

$$\varphi_t = (\cos \theta, \sin \theta, 4t)$$

$$\varphi_\theta = (-t \sin \theta, t \cos \theta, 0)$$

e o produto vetorial é

$$\begin{aligned} \varphi_t \times \varphi_\theta &= \begin{vmatrix} \vec{i} & \vec{j} & \vec{k} \\ \cos \theta & \sin \theta & 4t \\ -t \sin \theta & t \cos \theta & 0 \end{vmatrix} = \\ &= \left(-4t^2 \cos \theta, -4t^2 \sin \theta, \underbrace{t \cos^2 \theta + t \sin^2 \theta}_t \right), \end{aligned}$$

portanto

$$\begin{aligned} \|\varphi_t \times \varphi_\theta\| &= \sqrt{16t^4 \cos^2 \theta + 16t^4 \sin^2 \theta + t^2} = \\ &= \sqrt{16t^4 + t^2} = t\sqrt{16t^2 + 1} \end{aligned}$$

pois $t > 0$. Como

$$A(S) = \iint_D \|\varphi_t \times \varphi_\theta\| dt d\theta ,$$

então

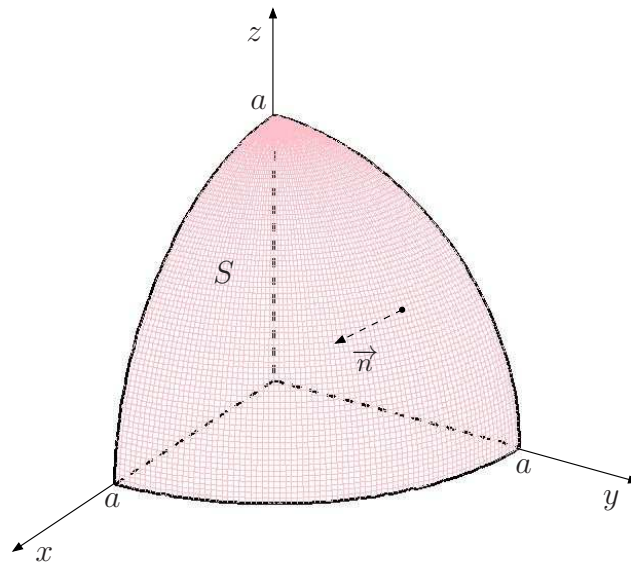
$$\begin{aligned} A(S) &= \iint_D t\sqrt{16t^2 + 1} dt d\theta = \int_0^2 \int_0^{2\pi} t\sqrt{16t^2 + 1} d\theta dt = \\ &= 2\pi \int_0^2 (16t^2 + 1)^{1/2} t dt . \end{aligned}$$

Fazendo $u = 16t^2 + 1$ temos $du = 32t dt$, portanto $t dt = du/32$. Para $t = 0$ temos $u = 1$ e para $t = 2$ temos $u = 65$. Então,

$$A(S) = 2\pi \int_1^{65} u^{1/2} \frac{du}{32} = \frac{\pi}{16} \cdot \frac{2}{3} \left[u^{3/2} \right]_1^{65} = \frac{\pi}{24} (65\sqrt{65} - 1) \text{ u.a.}$$

Exercício 7: Calcule $\iint_S \vec{F} \cdot \vec{n} \, dS$ onde $\vec{F}(x, y, z) = x \vec{i} - y \vec{j}$ e S é parte da esfera $x^2 + y^2 + z^2 = a^2$ no primeiro octante e \vec{n} apontando para a origem.

Solução: O esboço de S está representado na figura que se segue.



Como \vec{n} é dirigido para a origem, então \vec{n} é interior à esfera $x^2 + y^2 + z^2 = a^2$, isto é, $\vec{n} = \frac{(-x, -y, -z)}{a}$. Então,

$$\begin{aligned} \iint_S \vec{F} \cdot \vec{n} \, dS &= \iint_S (x, -y, 0) \cdot \frac{(-x, -y, -z)}{a} \, dS = \\ &= \frac{1}{a} \iint_S (-x^2 + y^2) \, dS. \end{aligned}$$

Para calcular a integral, devemos parametrizar S . Temos

$$S : \varphi(\phi, \theta) = (a \sin \phi \cos \theta, a \sin \phi \sin \theta, a \cos \phi)$$

com $(\phi, \theta) \in D : \begin{cases} 0 \leq \phi \leq \pi/2 \\ 0 \leq \theta \leq \pi/2 \end{cases}$. Da teoria, temos que $dS = a^2 \sin \phi \, d\phi d\theta$. Então,

$$\begin{aligned} \iint_S \vec{F} \cdot \vec{n} \, dS &= \\ &= \frac{1}{a} \iint_D (-a^2 \sin^2 \phi \cos^2 \theta + a^2 \sin^2 \phi \sin^2 \theta) a^2 \sin \phi \, d\phi d\theta = \\ &= -a^3 \iint_D (\cos^2 \theta - \sin^2 \theta) \sin^3 \phi \, d\phi d\theta = \\ &= -a^3 \iint_D \cos 2\theta \sin^3 \phi \, d\phi d\theta = \\ &= -a^3 \int_0^{\pi/2} \sin^3 \phi \int_0^{\pi/2} \cos 2\theta \, d\theta d\phi = \\ &= \frac{-a^3}{2} \int_0^{\pi/2} \sin^3 \phi \left[\sin 2\theta \right]_0^{\pi/2} d\phi = \\ &= \frac{-a^3}{2} \int_0^{\pi/2} \sin^3 \phi \left(\underbrace{\sin \pi - \sin 0}_{=0} \right) d\phi = \frac{-a^3}{2} \int_0^{\pi/2} 0 \, d\phi = 0. \end{aligned}$$

Exercício 8: Considere o campo vetorial

$$\vec{F}(x, y, z) = (x + z \cos y) \vec{i} + (x - y + z) \vec{j} + (z^4 - 3a^2) \vec{k}.$$

Seja S uma lata cilíndrica com fundo e sem tampa dada por $x^2 + y^2 = a^2$, com $0 \leq z \leq \sqrt{a}$, $a > 0$ e $x^2 + y^2 \leq a^2$, $z = 0$. Sabendo que o fluxo de \vec{F} através de S , de dentro para fora é igual a πa^3 , calcule o valor de a .

Solução: Consideremos $\bar{S} = S \cup S_1$, onde S_1 é dada por $S_1 : z = \sqrt{a}$, com $(x, y) \in D : x^2 + y^2 \leq a^2$. A superfície S_1 deve ser orientada com $\vec{n}_1 = \vec{k}$. Seja W o sólido limitado por \bar{S} . Como estamos nas condições do teorema de Gauss, temos

$$\begin{aligned} \iint_S \vec{F} \cdot \vec{n} \, dS + \iint_{S_1} \vec{F} \cdot \vec{n}_1 \, dS &= \iiint_W \operatorname{div} \vec{F} \, dxdydz = \\ &= \iiint_W (1 - 1 + 4z^3) \, dxdydz = 4 \iiint_W z^3 \, dxdydz. \end{aligned}$$

Como $\iint_S \vec{F} \cdot \vec{n} \, dS = \pi a^3$, então,

$$\pi a^3 + \iint_{S_1} \vec{F} \cdot \vec{n}_1 \, dS = 4 \iiint_W z^3 \, dxdydz \quad (1)$$

Passando para coordenadas cilíndricas, temos

$$\begin{cases} x = r \cos \theta \\ y = r \sin \theta \\ z = z \\ dxdydz = r dr d\theta dz \end{cases}$$

e $W_{r\theta z}$ é dado por

$$W_{r\theta z} : \begin{cases} 0 \leq r \leq a \\ 0 \leq \theta \leq 2\pi \\ 0 \leq z \leq \sqrt{a} \end{cases}$$

Então,

$$\begin{aligned} \iiint_W z^3 dxdydz &= \iiint_{W_{r\theta z}} z^3 r dr d\theta dz = \int_0^a r \int_0^{2\pi} \int_0^{\sqrt{a}} z^3 dz d\theta dr = \\ &= \int_0^a r \int_0^{2\pi} \left[\frac{z^4}{4} \right]_0^{\sqrt{a}} d\theta dr = \frac{a^2}{4} \int_0^a r \int_0^{2\pi} d\theta dr = \frac{\pi a^2}{2} \int_0^a r dr = \\ &= \frac{\pi a^2}{2} \left[\frac{r^2}{2} \right]_0^a = \frac{\pi a^4}{4}. \end{aligned}$$

Logo, de (1), temos

$$\pi a^3 + \iint_{S_1} \vec{F} \cdot \vec{n}_1 dS = \pi a^4 \quad (2)$$

Cálculo de $\iint_{S_1} \vec{F} \cdot \vec{n}_1 dS$

Temos

$$\begin{aligned} \iint_{S_1} \vec{F} \cdot \vec{n}_1 dS &= \\ &= \iint_{S_1} (x + \sqrt{a} \cos y, x - y + \sqrt{a}, a^2 - 3a^2) \cdot (0, 0, 1) dS = \\ &= \iint_{S_1} (-2a^2) dS = -2a^2 A(S_1) = -2a^2 \pi a^2 = -2\pi a^4. \end{aligned}$$

De (2) temos:

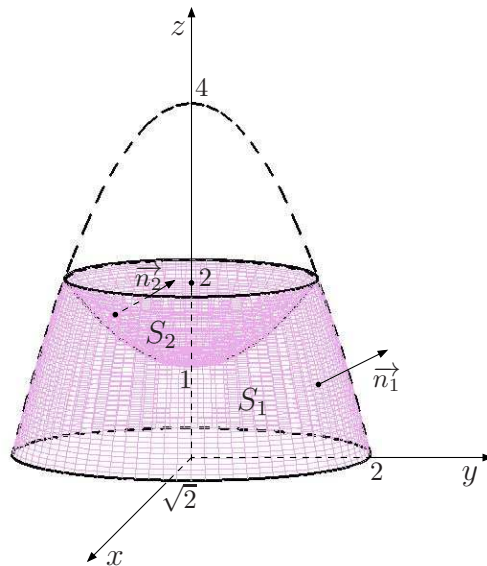
$$\pi a^3 - 2\pi a^4 = \pi a^4 \Rightarrow \pi a^3 = 3\pi a^4 \Rightarrow 1 = 3a \Rightarrow a = \frac{1}{3}.$$

Exercício 9: Calcule $\iint_S \text{rot } \vec{F} \cdot \vec{n} \, dS$ onde

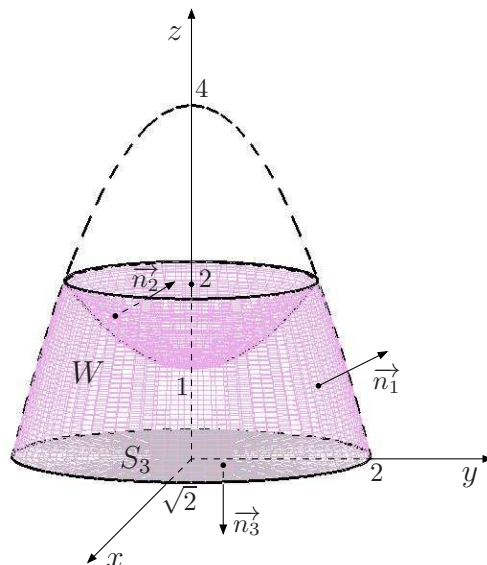
$$\vec{F}(x, y, z) = (-y + ze^x, x + \cos(yz), xy)$$

e S , orientada positivamente, é a reunião de S_1 e S_2 sendo S_1 dada por $z = 4 - 2x^2 - y^2$, com $0 \leq z \leq 2$ e S_2 dada por $z = 1 + x^2 + \frac{y^2}{2}$, com $1 \leq z \leq 2$.

Solução: O esboço da superfície aberta $S = S_1 \cup S_2$ está representado na figura que se segue.



Para aplicar o teorema de Gauss, devemos fechar a superfície S através da superfície S_3 , dada por $S_3 : z = 0$, com $(x, y) \in D : 2x^2 + y^2 \leq 4$ ou $\frac{x^2}{2} + \frac{y^2}{4} \leq 1$, orientada com $\vec{n}_3 = -\vec{k}$.



Seja W o sólido limitado por $\bar{S} = S \cup S_3$. Como \vec{F} é de classe C^1 em \mathbb{R}^3 e $\bar{S} = \partial W$ está orientada

positivamente, então podemos aplicar o teorema de Gauss. Temos,

$$\iint_{\bar{S}} \text{rot } \vec{F} \cdot \vec{n} \, dS = \iiint_W \text{div rot } \vec{F} \, dV.$$

Mas, por propriedades dos operadores diferenciais, temos que $\text{div rot } \vec{F} = 0$. Então,

$$\iint_{\bar{S}} \text{rot } \vec{F} \cdot \vec{n} \, dS = \iiint_W 0 \, dV = 0$$

ou

$$\iint_S \text{rot } \vec{F} \cdot \vec{n} \, dS + \iint_{S_3} \text{rot } \vec{F} \cdot \vec{n}_3 \, dS = 0.$$

Cálculo de $\iint_{S_3} \text{rot } \vec{F} \cdot \vec{n}_3 \, dS$

Temos

$$\begin{aligned} \text{rot } \vec{F} &= \begin{vmatrix} \vec{i} & \vec{j} & \vec{k} \\ \frac{\partial}{\partial x} & \frac{\partial}{\partial y} & \frac{\partial}{\partial z} \\ -y + ze^x & x + \cos(yz) & xy \end{vmatrix} = \\ &= (x + y \text{sen}(yz), e^x - y, 1 - (-1)) = \\ &= (x + y \text{sen}(yz), e^x - y, 2). \end{aligned}$$

Em S_3 , onde $z = 0$, temos que $\text{rot } \vec{F} = (x, e^x - y, 2)$. Então,

$$\begin{aligned} \iint_{S_3} \text{rot } \vec{F} \cdot \vec{n}_3 \, dS &= \iint_{S_3} (x, e^x - y, 2) \cdot (0, 0, -1) \, dS = \\ &= \iint_{S_3} -2 \, dS = -2A(S_3) = -2\pi ab \end{aligned}$$

onde $a = \sqrt{2}$ e $b = 2$. Logo

$$\iint_{S_3} \text{rot } \vec{F} \cdot \vec{n}_3 \, dS = -4\sqrt{2}\pi$$

e, portanto

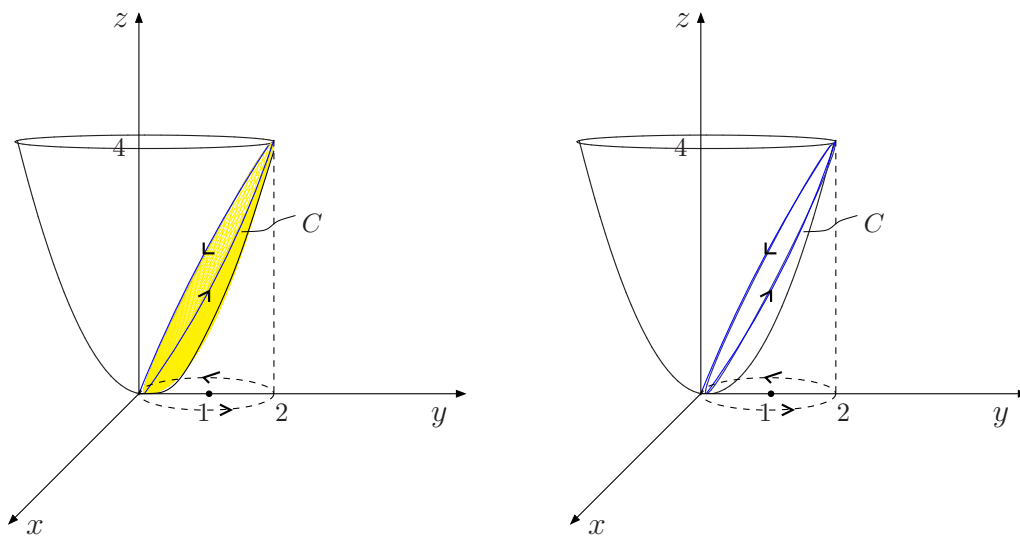
$$\iint_S \text{rot } \vec{F} \cdot \vec{n} \, dS = 4\sqrt{2}\pi.$$

Exercício 10: Seja

$$\vec{F}(x, y, z) = 2y \vec{i} + \frac{x^2}{2} \vec{j} + \sqrt{1+z^8} \vec{k}.$$

Calcule $\oint_C \vec{F} \cdot d\vec{r}$, onde C é a curva dada pela interseção das superfícies $z = x^2 + y^2$ e $x^2 + (y-1)^2 = 1$ com um sentido de percurso tal que, quando projetado no plano $z = 0$ produz um percurso no sentido anti-horário.

Solução: O esboço de C é:



Considerando o sistema

$$\begin{cases} z = x^2 + y^2 \\ x^2 + (y-1)^2 = 1 \text{ ou } x^2 + y^2 = 2y \end{cases}$$

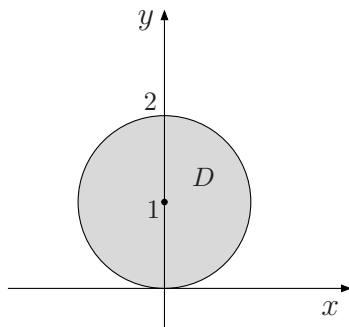
temos $z = 2y$. Isso significa que a curva interseção C está contida no plano $z = 2y$. Então, seja S a superfície porção do plano $z = 2y$, limitada por C . Logo, $\partial S = C$. Temos

$$S : z = 2y = f(x, y)$$

com

$$(x, y) \in D : x^2 + (y-1)^2 \leq 1 \text{ ou } x^2 + y^2 \leq 2y.$$

O esboço de D está representado na figura que se segue.



Como $dS = \sqrt{1 + (z_x)^2 + (z_y)^2} dx dy$ então $dS = \sqrt{1 + 0 + 2^2} dx dy = \sqrt{5} dx dy$. De acordo com a orientação de $C = \partial S$, devemos tomar \vec{n} apontando para cima. Então

$$\vec{n} = \frac{\vec{N}}{\|\vec{N}\|} = \frac{(-z_x, -z_y, 1)}{\|\vec{N}\|} = \frac{(0, -2, 1)}{\sqrt{5}}.$$

Temos

$$\text{rot } \vec{F} = \begin{vmatrix} \vec{i} & \vec{j} & \vec{k} \\ \frac{\partial}{\partial x} & \frac{\partial}{\partial y} & \frac{\partial}{\partial z} \\ 2y & \frac{x^2}{2} & \sqrt{1+z^8} \end{vmatrix} = (0, 0, x-2).$$

Pelo teorema de Stokes, temos

$$\begin{aligned} \oint_C \vec{F} \cdot d\vec{r} &= \iint_S \text{rot } \vec{F} \cdot \vec{n} dS = \\ &= \iint_D (0, 0, x-2) \cdot \frac{(0, -2, 1)}{\sqrt{5}} \cdot \sqrt{5} dx dy = \iint_D (x-2) dx dy. \end{aligned}$$

Passando para coordenadas polares, temos

$$\begin{cases} x = r \cos \theta \\ y = r \sin \theta \\ dx dy = r dr d\theta \\ x^2 + y^2 = 2y \Rightarrow r^2 = 2r \sin \theta \Rightarrow r = 0 \text{ ou } r = 2 \sin \theta \end{cases}$$

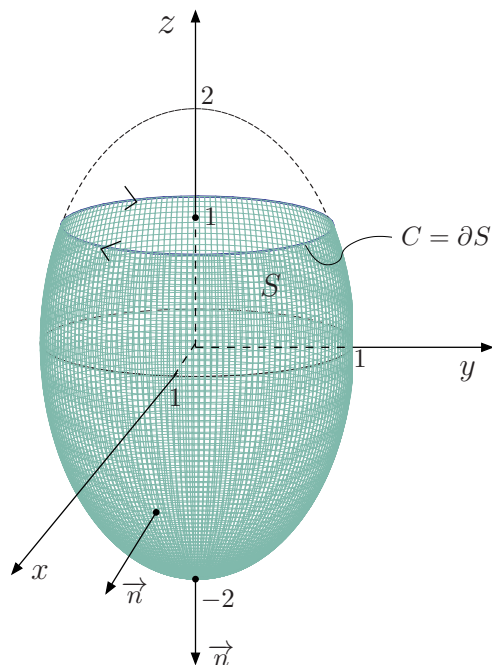
Do esboço de D , temos que $D_{r\theta}$ é dado por $D_{r\theta} : \begin{cases} 0 \leq \theta \leq \pi \\ 0 \leq r \leq 2 \sin \theta \end{cases}$. Então,

$$\begin{aligned} \oint_C \vec{F} \cdot d\vec{r} &= \iint_{D_{r\theta}} (r \cos \theta - 2)r dr d\theta = \iint_{D_{r\theta}} (r^2 \cos \theta - 2r) dr d\theta = \\ &= \int_0^\pi \int_0^{2 \sin \theta} (r^2 \cos \theta - 2r) dr d\theta = \int_0^\pi \left[\cos \theta \frac{r^3}{3} - r^2 \right]_0^{2 \sin \theta} d\theta = \\ &= \int_0^\pi \left(\frac{8}{3} \cos \theta \sin^3 \theta - 4 \sin^2 \theta \right) d\theta = \\ &= \left[\frac{8}{3} \cdot \frac{\sin^4 \theta}{4} - \frac{4}{2} \left(\theta - \frac{\sin 2\theta}{2} \right) \right]_0^\pi = -2\pi. \end{aligned}$$

Exercício 11: Use o teorema de Stokes para transformar a integral de superfície $\iint_S \text{rot } \vec{F} \cdot \vec{n} dS$ em uma integral de linha e calcule-a, sendo $\vec{F}(x, y, z) = x \vec{j} + xy \vec{k}$, através de $S : x^2 + y^2 + \frac{z^2}{4} = 1$, $z \leq 1$, orientada de forma que o vetor normal no ponto $(0, 0, -2)$ esteja apontando para baixo.

Solução: De $x^2 + y^2 + \frac{z^2}{4} = 1$ e $z = 1$, temos $x^2 + y^2 = \frac{3}{4} = \left(\frac{\sqrt{3}}{2}\right)^2$. Logo, o bordo de S , ∂S é uma circunferência de raio $\frac{\sqrt{3}}{2}$ de centro no eixo z e contida no plano $z = 1$.

Os esboços de S e ∂S são



Como \vec{n} é exterior a S então o bordo de S , ∂S , resulta com orientação horária. Parametrizando ∂S^- , temos $x = \frac{\sqrt{3}}{2} \cos t$, $y = \frac{\sqrt{3}}{2} \sin t$ e $z = 2$, com $0 \leq t \leq 2\pi$ portanto $dx = -\frac{\sqrt{3}}{2} \sin t dt$, $dy = \frac{\sqrt{3}}{2} \cos t dt$ e $dz = 0$.

Do teorema de Stokes, temos

$$\begin{aligned} \iint_S \text{rot } \vec{F} \cdot \vec{n} \, dS &= \oint_{\partial S^+} \vec{F} \cdot d\vec{r} = - \oint_{\partial S^-} \vec{F} \cdot d\vec{r} = \\ &= - \oint_{\partial S^-} 0 \, dx + x \, dy + xy \, dz = - \int_0^{2\pi} \left(\frac{\sqrt{3}}{2} \cos t\right) \left(\frac{\sqrt{3}}{2} \cos t\right) dt = \\ &= - \int_0^{2\pi} \frac{3}{4} \cos^2 t \, dt = -\frac{3}{4} \cdot \frac{1}{2} \left[t + \frac{\sin 2t}{2}\right]_0^{2\pi} = -\frac{3\pi}{4}. \end{aligned}$$