



Instruções

- A interpretação das questões faz parte dos critérios de avaliação.
- Responda cada questão de maneira clara e organizada.
- Resultados sem justificativas não serão considerados.
- Uma questão com mais de uma solução terá nota zero.
- Os celulares devem ser mantidos desligados.
- Resposta final correta com solução incorreta terá nota zero.
- Não é permitido o compartilhamento de material.
- Não é permitido sair da sala (tomar água, ir ao banheiro e etc) sem entregar definitivamente a avaliação.
- Aos alunos envolvidos em algum tipo de fraude, mesmo que identificada posteriormente, será atribuído nota zero na prova.

Quest.	Pts	Bonus:	N
1	1	0	
2	2,5	0	
3	3	0	
4	3,5	0	
Total:	10	0	

Nome: _____

GABARITO

1. [1 pt] Responda a cada um dos itens abaixo.

- Qual é o nome do objeto geométrico representado pela equação $x^2 + (y - 2)^2 + (z + 1)^2 = 5$ no espaço? Quais informações você tem sobre este objeto?
- Escreva a equação do plano ortogonal a $\vec{n} = (-1, 2, 1)$ passando pela origem.
- Obtenha um vetor ortogonal a $\vec{u} = (1, 1, -2)$ e $\vec{v} = (-2, 0, 1)$ simultaneamente.
- Sejam \vec{u} e \vec{v} dois vetores não nulos. Se $\vec{u} \times \vec{v} = \vec{0}$, o que podemos concluir?
- Dados \vec{u} , \vec{v} e \vec{w} três vetores não nulos. O que representa geometricamente $||[\vec{u}, \vec{v}, \vec{w}]||$?

2. [2,5 pts] Determine os pontos sobre a reta $r : X = (1, 0, 1) + t(-1, 1, 2)$ que formam com $A = (1, 0, 5)$, $B = (-2, 1, 1)$ e $C = (-3, 1, 0)$ um tetraedro de volume 2.

3. [3 pts] Determine os planos tangentes à esfera $x^2 + (y + 2)^2 + (z - 1)^2 = 4$ e paralelos ao plano $x + y - z = 0$.

4. [3,5 pts] Um triângulo equilátero ABC tem lado BC sobre a reta $r : x + z - 1 = y - z - 2 = -z$. Sendo $A = (1, 0, 1)$ um dos seus vértices, determine os outros três.

Questão 1:

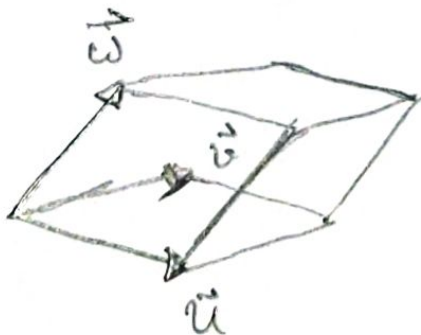
a) O objeto geométrico representado por $x^2 + (y-2)^2 + (z+1)^2 = 5$ é uma esfera de centro $(0, 2, -1)$ e raio $\sqrt{5}$.

b) $-x + 2y + z = 0$

c) $\vec{u} = (1, 1, -2) \Rightarrow \vec{u} \times \vec{v} = (1, -1+4, 2) = (1, 3, 2)$
 $\vec{v} = (-2, 0, 1)$ é ortogonal a \vec{u} e \vec{v} .

d) Que \vec{u} e \vec{v} são múltiplos.

e) $|\langle \vec{u}, \vec{v}, \vec{w} \rangle|$ é o volume do paralelepípedo cujas arestas adjacentes são formadas por representantes de \vec{u} , \vec{v} e \vec{w} com mesma origem.

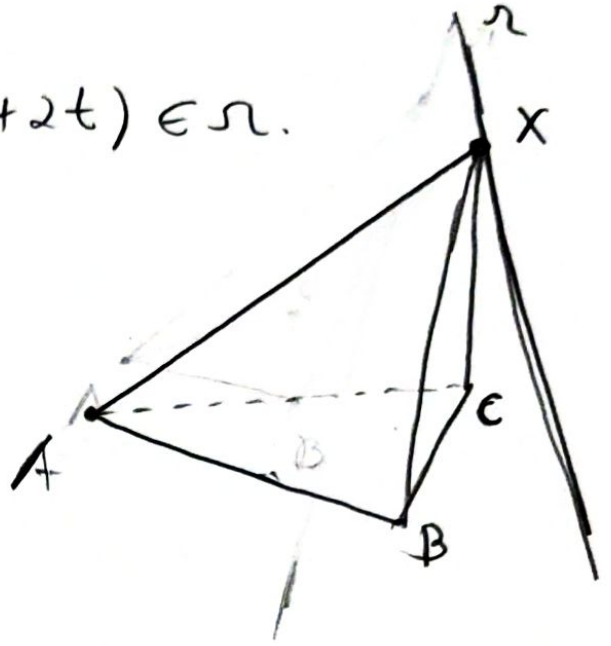


Questão 2: $X = (1-t, t, 1+2t) \in \Omega$.

$$\vec{AB} = (-3, 1, -4)$$

$$\vec{AC} = (-4, 1, -5)$$

$$\vec{AX} = (-t, t, -4+2t)$$



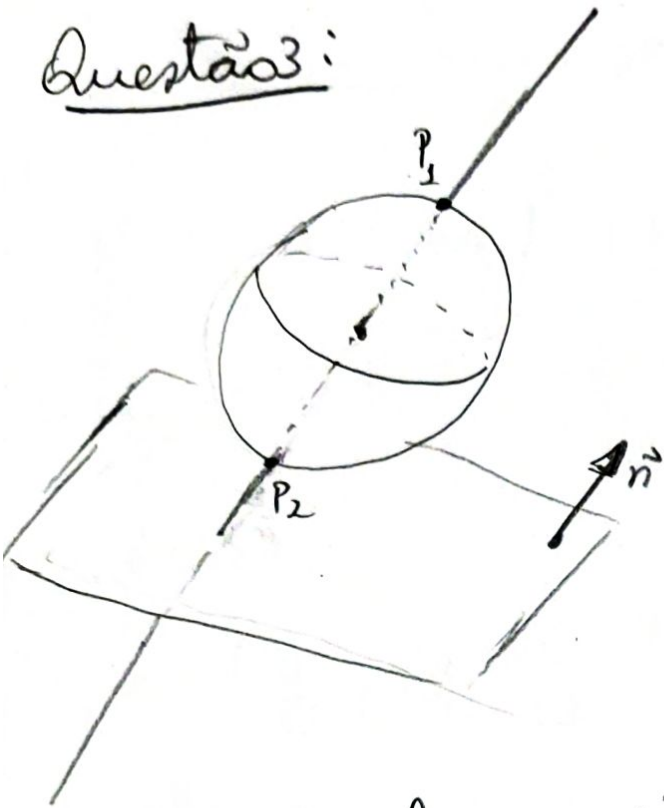
$$[\vec{AB}, \vec{AC}, \vec{AX}] = \det \begin{bmatrix} -3 & 1 & -4 \\ -4 & 1 & -5 \\ -t & t & -4+2t \end{bmatrix} = 4t - 4.$$

$$\Rightarrow V = \frac{1}{6} |[\vec{AB}, \vec{AC}, \vec{AX}]| = 2 \Rightarrow |4t - 4| = 12$$

$$\Rightarrow |t - 1| = 3 \Rightarrow t - 1 = \pm 3 \Rightarrow t = 4 \text{ or } t = -2.$$

$$\Rightarrow D_1 = (-3, 4, 9) \text{ or } D_2 = (3, -2, -3).$$

Questão 3:



Como os planos são paralelos a $x+y-z=0$,
então eles são da forma $x+y-z+d=0$.

Para determinar d , basta encontrarmos P_1, P_2
os pontos de tangência. Estes pontos são dados
pela interseção da reta r que passa pelo
centro $C=(0, -2, 1)$ da esfera na direção
do vetor normal $\vec{n}=(1, 1, -1)$. Assim;

$$r: X = (0, -2, 1) + t(1, 1, -1) = (t, -2+t, 1-t).$$

Subst. na equação da esfera temos

$$t^2 + (-2+t+2)^2 + (1-t-1)^2 = 4$$

$$\Rightarrow t^2 + t^2 + t^2 = 4 \Rightarrow 3t^2 = 4 \Rightarrow t^2 = \frac{4}{3} \Rightarrow t = \pm \frac{2}{\sqrt{3}}$$

com isso,

$$P_1 = \left(\frac{2}{\sqrt{3}}, -2 + \frac{2}{\sqrt{3}}, 1 - \frac{2}{\sqrt{3}} \right) \text{ . Subst. na equação}$$

do plano

$$\frac{2}{\sqrt{3}} - 2 + \frac{2}{\sqrt{3}} - 1 + \frac{2}{\sqrt{3}} + d = 0 \Rightarrow \frac{6}{\sqrt{3}} - 3 + d = 0$$

$$d = 3 - \frac{6}{\sqrt{3}} = 3 - \frac{6\sqrt{3}}{3} = 3 - 2\sqrt{3}, \text{ daí,}$$

$$\pi_1: x + y - z + 3 - 2\sqrt{3} = 0$$

Analogamente,

$$P_2 = \left(-\frac{2}{\sqrt{3}}, -2 - \frac{2}{\sqrt{3}}, 1 + \frac{2}{\sqrt{3}} \right) \text{ e subst. na eq. do}$$

plano

$$-\frac{2}{\sqrt{3}} - 2 - \frac{2}{\sqrt{3}} - 1 - \frac{2}{\sqrt{3}} + d = 0$$

- 5 -

$$\Rightarrow -\frac{6}{\sqrt{3}} - 3 + d = 0 \Rightarrow d = \frac{6\sqrt{3}}{3} + 3 = 2\sqrt{3} + 3, \text{ dan}$$

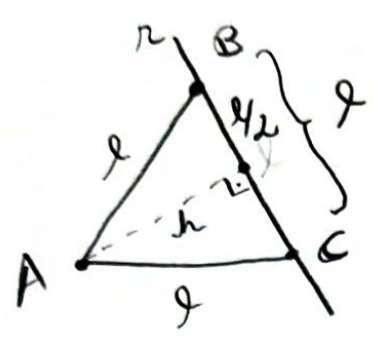
$$\pi_2: x + y - z + 3 + 2\sqrt{3} = 0$$

Questão 4: Obtenha a equação paramétrica de r

$$x + z - 1 = -z \Rightarrow x = 1 - 2z$$

Fazendo $z = t$, temos $x = 1 - 2t$.

Também $y - z - 2 = -z \Rightarrow y = 2$, daí,



$$r: \begin{cases} x = 1 - 2t \\ y = 2 \\ z = t \end{cases}, t \in \mathbb{R} \Rightarrow P = (1, 2, 0) \in r, \vec{n} = (-2, 0, 1) \parallel r$$

$$h = d(A, r) = \frac{\|\vec{AP} \times \vec{n}\|}{\|\vec{n}\|} \stackrel{(*)}{=} \frac{\|(2, 2, +1)\|}{\sqrt{5}} = 2\sqrt{\frac{6}{5}} = 2$$

(*)
 $\vec{AP} = (0, 2, -1)$
 $\vec{n} = (-2, 0, 1)$

Pelo Teor. de Pitágoras, $\frac{l^2}{4} + h^2 = l^2$

$$\Rightarrow \frac{3l^2}{4} = h^2 \Rightarrow l^2 = \frac{4h^2}{3} \Rightarrow l = \frac{2h}{\sqrt{3}} = \frac{2}{\sqrt{3}} \cdot 2\sqrt{\frac{6}{5}}$$

$$\Rightarrow \boxed{l = 4 \cdot \sqrt{\frac{2}{5}}}$$

Dado $X = (1-2t, 2, t) \in \mathbb{R}^3$, queremos encontrar X tal que $d(X, A) = 2$

$$\Rightarrow \sqrt{4t^2 + 4 + (t-1)^2} = 4\sqrt{\frac{2}{5}}$$

$$\Rightarrow 4t^2 + 4 + t^2 - 2t + 1 = 16 \cdot \frac{2}{5} = \frac{32}{5}$$

$$\Rightarrow 5t^2 - 2t + 5 - \frac{32}{5} = 0$$

$$\Rightarrow 5t^2 - 2t - \frac{7}{5} = 0$$

$$\Rightarrow t = \frac{2 \pm \sqrt{32}}{10} = \frac{2 \pm 4\sqrt{2}}{10} = \frac{1 \pm 2\sqrt{2}}{5}$$

Com isto,

$$B = \left(1 - \frac{2+4\sqrt{2}}{5}, 2, \frac{1+2\sqrt{2}}{5} \right) = \left(\frac{3-4\sqrt{2}}{5}, 2, \frac{1+2\sqrt{2}}{5} \right)$$

$$C = \left(1 - \frac{2-4\sqrt{2}}{5}, 2, \frac{1-2\sqrt{2}}{5} \right) = \left(\frac{3+4\sqrt{2}}{5}, 2, \frac{1-2\sqrt{2}}{5} \right)$$